

<範圍：L1~L2 >

【劃卡代號：53】

班級：

座號：

姓名：

單選題(每題 2.5 分, 共 40 題, 總分 100 分)

選項:(A)人民 (B)領土 (C)政府 (D)主權(1~4 題)

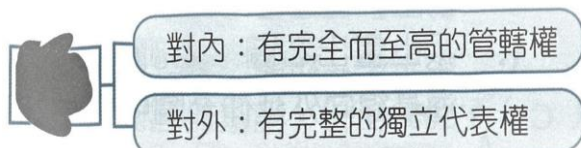
- 2020 年初, 因應新冠肺炎疫情升溫, 我國行政院院長在行政院會議中裁示, 防疫中心由二級開設提升為一級開設。「行政院」屬於何像組成要素?
- 下圖是公民老師上課講述國家組成要素輔助說明的資料, 根據內容判斷, 最主要是在強調哪一項要素的重要性?

我國與印度臺北協會共同簽屬《臺印度雙邊投貿協定》與《臺印度優質企業相互承認協定》, 持續深化兩國關係, 厚實「新南向政策」推動成果。

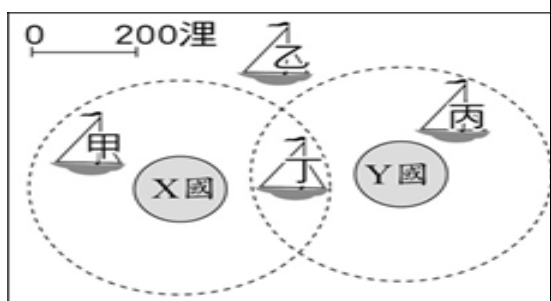
- 下表是大忠國與大愛國的部分基本資料, 若僅依照表中顯示的內容判斷, 哪一項國家構成要素在兩國間是相等的?

項目	大忠國	大愛國
國民人數	35, 078	1, 934, 786, 179
軍隊人數	55, 897	6, 840, 000
土地面積(平方哩)	1. 288	5, 790, 567
聯合國大會票數	1	1

- 下圖是小明整理的「國家組成要素」筆記, 因不慎打翻飲料, 造成筆記中某部分汙損。依據圖中資料判斷, 何種國家構成要素最有可能是汙損處內容?



- 我國籍遠洋漁船上, 船長與漁工的對話如下:
漁工小義:「船長, 我們可以下網捕魚了嗎?」
船長小城:「沒問題, 我們的船已經開到可自由捕魚的公海上了。」
根據上述內容判斷, 小城的船隻最可能位於附圖中哪一個位置? (A)甲 (B)乙 (C)丙 (D)丁。



- 公民老師在上課講述國家構成要素時指出科索沃原為塞爾維亞的一省, 到 1999 年由聯合國科索沃臨時行政當局託管, 一直到 2008 年才獨立建國。根據老師的話可推知, 科索沃在被託管期間, 仍然不屬於一個完整獨立的國家, 最主要是缺少構成國家的那些要素?
(A)人民、領土 (B)人民、主權 (C)政府、主權 (D)領土、政府
- 班上四位同學討論關於國家與政府之間的關係, 他們的說法何者正確?
(A)忠孝:「國家的概念包含政府的概念」
(B)仁愛:「政府的更替代表國家的滅亡」
(C)信義:「國家擁有統治權, 政府擁有主權」
(D)和平:「國家是短暫的、可改變的組織, 政府是永久和持續性的整體」
- 曉鈴要繪製介紹歐洲國家—教廷(梵蒂岡)的海報, 下列是他找到的素材, 其中何者是組成一個國家不可或缺的要素? (A)甲乙(B)甲丙(C)乙丙(D)丙丁

甲 	乙 	丙 	丁
國旗為黃白兩色, 黃色代表和平、白色代表仁愛	語言包括拉丁語、義大利語、法語	人口約800人, 以神職人員為主, 其中約450人員公民資格	設立國務院綜理教廷行政、外交, 並掌理教宗之樞密事務

選項(9~16 題)

- | | |
|-------------|-------------|
| (A) 保衛國家安全 | (B) 維持社會秩序 |
| (C) 保障基本人權 | (D) 發展社會福利 |
| (AB) 伸張司法正義 | (AC) 促進經濟發展 |
| (AD) 保存文化傳統 | |
- 外交部推出「翻轉人生」短片, 呼籲國際社會支持中華民國參與世界衛生組織
 - 新北市政府社會局辦理低收及中低收入戶家庭子女獎助學金計畫
 - 保安警察大隊加強反詐騙宣傳, 提醒民眾網路訂購「電話詐騙」不要上當
 - 政府修法設置「智慧財產及商業法院」, 以迅速、專業解決重大商業事件
 - 小澤看到一則新聞報導。國防部採購 MIA2T 戰車, 最主要在達成哪項目的?

為提升地面防衛作戰能力, 國防部已向美採購 MIA2T 戰車, 陸軍司令部在立法院外交及國防委員會專案報告中指出, 將派員赴美受訓, 且美方人員也會來臺協助整建相關訓場及模擬器訓練館。

14. 天馬國政府設置大王經貿園區，標榜以「智慧、低碳、創新」示範區為主軸，吸引鄰近國家的企業來投資，帶動該國產業發展，提升國家的競爭力、富裕人民的生活。上述該國政府的做法主要在達成國家存在的哪項目的？

15. 小方在網路上看到一則訊息如下

立法院通過《兵役法》修正案，開放役男出國遊學。前教育部長對此表示，能讓孩子自由的出國，是很好的事。他並鼓勵學生應該多出國學習，吸收不同國家、不同學校的優點，成為下世紀的優秀領袖人才

上述政府作為，彰顯國家成立的何種目的？

16. 政府制定《國民年金法》推動國民年金保險制度，下列是該法部分條文。從內容判斷，該制度主要是在實現國家成立的何項目的？

為確保未能於相關社會保險獲得適足保障之國民於老年、生育及發生身心障礙時之基本經濟安全，並謀其遺屬生活之安定，特制定本法。

請依圖回答下列問題



17. 圖中民眾之所以上街抗議，是認為國家未達到何種存在的目的？

(A) 保衛國家安全 (B) 維持社會秩序
(C) 保存傳統文化 (D) 發展社會福利

18. 由圖中內容判斷，該國在國會選舉後，出現下列哪一現象？

(A) 該國出現政黨輪替
(B) 總理因敗選下臺是承擔法律責任
(C) 經過選舉後，該國主權出現改變
(D) 執政黨的政策獲得多數民意支持

19. 圖中勝選的太陽黨最有可能須承擔何種責任？

(A) 組織政府 (B) 監督政府 (C) 解散政府 (D) 攻擊政府

20. 某立法委員在其行使職權時收受私人公司的 300 萬賄款，協助該公司順利取得工程標案，遭人檢舉，經檢察官調查起訴，法官最後依違反《貪汙治罪條例》判處有期徒刑 10 年。上述判決是要該立法委員負起下列哪一項責任？

(A) 政治責任 (B) 道德責任 (C) 法律責任 (D) 社會責任

2021 年 3 月烏克蘭總統簽署奪回頓巴斯地區的總統令，烏克蘭軍隊加強在前線的兵力部署，並開始頻繁與烏東親俄武裝部隊交火。另一方面，俄羅斯因為與烏克蘭間出現克里米亞爭議，加上烏克蘭近幾年一直想要加入北約組織，但俄羅斯認為北約是歐洲民主主義國家與以蘇聯為首的國家組織對抗的主要軍事組織，此項舉動引起俄羅斯的不安全感。因此 2021 年 12 月起俄羅斯在兩國相鄰的邊境屯兵超過 10 萬人，是自第二次世界大戰以來歐洲最大的一次軍事動員。2022 年 2 月 24 日俄羅斯兵分四路入侵烏克蘭，首批俄軍攻入烏克蘭首都基輔附近，並在其外圍展開巷戰，為避免衝突擴大，兩國展開數次談判，烏克蘭政府提出兩國和平談判有涉及「歷史性」變化的協議等，依據法律都須交由烏克蘭人民透過公民投票決定，人民有權在這些協議中表達意見。

21. 依文中，烏克蘭的哪一項政策是與國家要素「領土」最相關？

(A) 簽署奪回頓巴斯地區的總統令
(B) 頻繁與烏東親俄武裝部隊交火
(C) 想要加入北約組織
(D) 烏、俄兩國展開數次談判

22. 文中烏克蘭想要加入北約組織以避免外來勢力的入侵，是為了滿足自身國家存在的哪一項主要目的？

(A) 制定法律保障基本人權
(B) 傳承與保存自身傳統文化
(C) 保衛國家安全不受外來侵略
(D) 促進經濟發展提升國家競爭力

23. 文中烏克蘭政府提出國際間談判有涉及「歷史性」變化的協議等，依據法律都須交由烏克蘭人民透過公民投票決定，上述聲明符合下列何者？

(A) 烏克蘭的立法方式皆為公民投票通過後實施
(B) 面臨國際情勢詭譎多變，法律須隨著統治者而改變
(C) 烏克蘭政府根據自己喜怒好惡來決定國際談判內容
(D) 烏克蘭政府的作為受到法律約束，是法治政治展現

英國脫歐宣告落幕

2016年6月23日，英國首相卡麥隆為履行競選承諾而舉行「英國去留歐洲聯盟公投」（簡稱脫歐公投），脫歐派以得票率51.9%超越留歐派的48.1%。原先力挺留歐的卡麥隆因此請辭，由梅伊接手首相職務與脫歐任務。2017年3月29日，英國正式啟動脫歐程序。

在脫歐的過程中，因為涉及愛爾蘭與北愛爾蘭邊境問題，首相梅伊所提出的北愛爾蘭邊境保障措施數次遭到國會否決而辭職下臺，由脫歐派的強生接任首相。由於英國內部對於脫歐方式或時間等議題難以達成共識，使得英國脫歐時間一延再延。2019年10月17日，首相強生宣布和歐盟達成協議，並解決愛爾蘭與北愛爾蘭地區邊界問題。英國國會於2020年1月通過脫歐協議，在英國經歷3次的脫歐展延後，終於趕上了第4個脫歐最後期限。英國在2020年1月31日晚上11時後，正式脫離歐洲聯盟，雙方進入為期11個月的過渡期，並針對自由貿易協定展開談判。

24. 英國政府舉辦公投讓人民決定是否脫離歐洲聯盟。

上述主要在強調何項民主政治的特色？

(A) 民意政治 (B) 法治政治 (C) 責任政治 (D) 政黨政治

25. 英國脫歐公投出爐後，力挺「留歐」的前首相卡麥隆辭職下臺，由同黨的梅依接手新首相。前首相卡麥隆辭職下台是符合下列哪一個民主政治特色？

- (A) 民意政治 (B) 法治政治 (C) 責任政治 (D) 政黨政治

26. 英國在脫歐後，須與歐盟國家針對自由貿易協定展開談判。英國政府在不受他國干涉下，與歐盟國家調整其外交關係，主要反映出主權的哪項特性？

- (A) 獨立性 (B) 最高性 (C) 安全性 (D) 政治性

27. 新聞報導：「部分以父權為優先的國家，女性的人身、言論自由受到許多限制，但當地女性仍持續以各種方式爭取平等。」報導內容中畫底線的部分應是指下列何種概念？

- (A) 權力 (B) 權利 (C) 公權力 (D) 法律效力

28. 上課時，老師請同學舉例說明「權力」的概念，下列何者的例子最符合？

(A)	哈哈	監察委員調查普悠瑪事件，對臺灣鐵路局提出糾正
(B)	雷雷	國中小學生的家長要求地方政府在教室裡裝設冷氣
(C)	路路	青年要求政府提出平抑房價措施，以落實居住正義
(D)	亞亞	新冠肺炎疫情嚴峻，受影響的失業勞工要求政府紓困

29. 行政院為處理選舉與公投合併所產生的缺失，提出《公民投票法》修正草案。此草案須先交由立法院開會討論，經三讀通過，總統公布後，行政機關才能依法執行。從上述內容可見民主國家政府間運作的何種概念？

- (A) 主權在民 (B) 權能區分 (C) 分權制衡 (D) 人治社會

30. 下圖是小雯在某政府網站上看到的資料。內容提及的補助，應是人民所擁有的下列何者？(A) 積極權利 (B) 消極權利 (C) 積極權力 (D) 消極權力

幫您省錢包，租屋、購屋、建屋補助方案報您知

資料來源：內政部、教育部、勞動部、各縣市政府

政府提供各項住宅補助方案，不管是在外租屋的上班族、學生或是家庭租屋，政府發放租金補貼，而自購住宅者，則可申請貸款利率優惠或利息補貼…

31. 下列是小靜「權力分立」報告中所舉的例子。根據內容判斷，該例子最可能是要用來說明下列何者？

安德魯·傑克遜(Andrew Jackson) 當選美國第七任總統後，大量撤換聯邦政府官員，取而代之是自己的支持者與友人，被稱為「傑克遜民主的分贓」

- (A) 行政權與立法權的制衡
(B) 行政權兼考試權的流弊
(C) 立法權與監察權的缺失
(D) 司法權獨立行使的重要


32. 面對少子化，政府制訂與修改法律，透過發放生育給付、育嬰留職停薪津貼與育嬰津貼等方式，鼓勵國人養子女、發揮家庭生育功能。上述政府的作為，是以下列何種方式來協助家庭發揮相關職能？

- (A) 重視人治精神
(B) 以公權力介入
(C) 代表人民行使積極權利
(D) 落實權力的分立與制衡

33. 下列是敏敏整理的「五權分立」重點，其中何者是不同於「三權分立」的特色？

甲、司法權獨立行使，以公正裁判爭訟
乙、監察權獨立成一權，避免議會專制
丙、考試權從行政權獨立出來，為國家公正舉才
丁、行政權與立法權分立，發揮監督牽制的效果

- (A) 甲乙 (B) 甲丙 (C) 乙丙 (D) 乙丁



34. 下列各項例子，何者與①所述概念相同？

- (A) 政府為了興建捷運，向人民徵收土地
(B) 美美為了服務鄉親，決定競選市議員
(C) 警察為維護交通，取締違規右轉車輛
(D) 法官對於公然侮辱他人者，判處罰金。

35. ②的說法顯示了下列何者的重要性？

- (A) 人民遵守法律
(B) 法律依一定程序制定
(C) 國家必須要有法律的存在
(D) 建立權力受約束的有限政府

唐代宰相魏徵曾云：「以銅為鏡，可以正衣冠；以史為鏡，可以知興替；以人為鏡，可以知得失。」歷史就像一面鏡子，可以幫助我們不要再犯過去的錯誤，但可惜的是人類很少會從前人錯誤中避免自己的錯誤。中國過去的歷史中，不斷看到許多皇帝擁有很大的權力，無人敢反抗，造成其荒淫無道，導致國家衰敗滅亡，所幸，這種獨攬大權於一身的極權制度，現今已甚少存在。而我國為亞洲第一個民主共和國，採取五權分立的制度

36. 從上文畫線處可以印證權力使人腐化。若是在我國中，下列相關權力的敘述，何者正確？
- (A) 分為積極權利和消極權利
 - (B) 政府賦予人民統治的權力
 - (C) 政府可行使公權力對違法民眾開罰
 - (D) 指法律保障人民所應享有的生活利益
37. 依上文，下列關於我國中央政府體制的敘述，何者錯誤？
- (A) 可以促進政府的效率
 - (B) 權力分散可以相互制衡
 - (C) 可以避免領導人或國家專權
 - (D) 五權分立是由孟德斯鳩提出

38. 從上表中第一項新制度的推動內容判斷，食藥署對於未依規定標示飲料總咖啡因含量的業者，依違反《食品安全衛生管理法》規定，處新臺幣 3 萬元至 300 萬元罰鍰。這種作法最主要在彰顯民主政治哪一項特色？
- (A) 民意政治(B) 法治政治(C) 責任政治(D) 政黨政治
39. 上表中第二項新制度的推動，主要是在發揮國家組成的哪一項功能？
- (A) 安全(B) 正義(C) 經濟(D) 福利
40. 上表中第三項新制度所提到的環保署，最可能是構成國家的哪一項要素？
- (A) 人民(B) 領土(C) 政府(D) 主權

2023年新制度上路

我國政府於 2023 年 1 月 1 日起推動 17 項新制度的規定，可分為(一)勞工新制：包括基本工資調漲、勞保費率調漲為 12%、勞保和職投保薪資分級表修正、國民年金保費率上調至 10%。(二)民生相關新制：手搖飲料需標示咖啡因含量、循環杯新制上路、郵政數位存款帳戶開放臨櫃身分驗證、住宅家電汰舊換新補助 3,000 元、汽車汰舊換電動車補助、育兒津貼取消排富條款。(三)法律新制：國民法官上路、《民法》成年年齡下修為 18 歲。

有關上述新制度的推動，其中三項制度重點整理如下表：

第一項新制度： 手搖飲料需標示 咖啡因含量	衛生福利部表示自 2023 年 1 月 1 日起，所有「咖啡飲料」皆需標示為「含有咖啡因成分之現場調製飲料」，且需標示飲料的總咖啡因含量。違反的業者將依《食品安全衛生管理法》規定，處新臺幣 3 萬元至 300 萬元罰鍰。
第二項新制度： 育兒津貼取消 排富條款	取消育兒津貼之「父母雙方綜合所得稅稅率未達 20%」及「5 歲未就學」規定，預估有 2.5 萬名幼兒受益。
第三項新制度： 老舊車輛 汰舊換新方案	環保署於 2023 年 1 月 11 日公布《老舊車輛汰舊換新減量效益補助及媒合作業辦法》，提供民眾 2 種方式換取不同金額補助或獎勵金。